

Образовательная организация \_\_\_\_\_

Ф.И. участника, 5 класс \_\_\_\_\_

Задания для олимпиады:

1. Реши примеры:

$$800 \text{ кг} - 200 \text{ кг} - 100 \text{ кг} = \underline{\hspace{2cm}}$$

$$400 \text{ ц} - 300 \text{ ц} + 700 \text{ ц} = \underline{\hspace{2cm}}$$

$$900 \text{ г} - 800 \text{ г} - 100 \text{ г} = \underline{\hspace{2cm}}$$


2. За покупку заплатили 2 купюрами по 10 р., и тремя купюрами по 50 р.  
Сколько стоила покупка?

Решение: \_\_\_\_\_


\_\_\_\_\_

Ответ: \_\_\_\_\_

3. Нарисуй стрелки так, чтобы часы показывали указанное время.



**10 часов**



**20 часов**

4. Сколько денег в 4 купюрах по 100 рублей? В шести, в восьми таких же купюрах? \_\_\_\_\_

\_\_\_\_\_

5. Замените крупные меры более мелкими:

$$7 \text{ р.} = \quad \text{к.} \qquad 1 \text{ см } 6 \text{ мм} = \quad \text{мм}$$

$$8 \text{ м} = \quad \text{дм} \qquad 4 \text{ т } 8 \text{ ц} = \quad \text{ц}$$

$$10 \text{ т} = \quad \text{ц} \qquad 2 \text{ р. } 75 \text{ к.} = \quad \text{к.}$$

6. Сколько дней недели? \_\_\_\_\_

Назовите дни недели по порядку. \_\_\_\_\_

\_\_\_\_\_

\_\_\_\_\_

Образовательная организация \_\_\_\_\_


Ф.И. участника, 5 класс \_\_\_\_\_

7. Назовите все времена года. \_\_\_\_\_

Сколько месяцев в каждом времени года? \_\_\_\_\_

К какому времени года относится сентябрь? \_\_\_\_\_

8. Покрывало для кровати имеет форму прямоугольника: длина 2 м 20 см, а ширина 1 м 20 см. Покрывало отделали кружевом. Какой длины кружево потребовалось для отделки покрывала?



9. Крышка шкатулки имеет форму квадрата. Ее периметр равен 48 см. Чему равна сторона крышки? Начертите эту фигуру. На свободном месте напишите решение.