

Образовательная организация \_\_\_\_\_

Ф.И. участника, 6 класс \_\_\_\_\_

Задания для олимпиады:

1. Решите примеры:

$21 \text{ т} - 4 \text{ кг} =$


$23 \text{ м} 186 \text{ мм} + 14 \text{ м} 7 \text{ мм} =$

$23 \text{ ч} 19 \text{ мин} - 27 \text{ мин} =$

$9 \text{ кг} 820 \text{ г} + 1 \text{ кг} 180 \text{ г} =$

$5 \text{ ч} 15 \text{ мин} - 3 \text{ ч} 50 \text{ мин} =$

$13 \text{ ц} 28 \text{ кг} + 7 \text{ ц} 93 \text{ кг} =$




2. Напишите даты праздников – числа с помощью арабских цифр, а месяцы с помощью римских цифр: День защитника Отечества, Международный женский день, День Победы, День независимости России. \_\_\_\_\_

3. Выразите в более крупных мерах:


$1304 \text{ м} = \underline{\hspace{2cm}} \quad 1800 \text{ мин} = \underline{\hspace{2cm}}$

$5400 \text{ мм} = \underline{\hspace{2cm}} \quad 2040 \text{ с} = \underline{\hspace{2cm}}$

4. Нарисуй стрелки так, чтобы часы показывали указанное время.



**18 часов**



**9 ч 15 мин**

